

Приложение № 3 к приказу №201-од

«Об утверждении основной образовательной программы основного, общего образования на 2022-2023 учебный год» от «29» августа 2022 г



**Рабочая программа
по физике**

(9 класс на 2 часа)

Составитель: Лукашенко Г.Н, учитель
высшей квалификационной категории.

Пояснительная записка.

Рабочая программа по физике разработана для 9 класса на основе программы основного общего образования с учетом примерной программы основного общего образования по физике. Срок реализации программы 2019-2020 учебный год. Количество часов 3ч в неделю, 68 ч- учебный год в соответствии с учебным планом МБОУ Кварсинской СОШ.

УМК Учебник «Физика» для 9 класса общеобразовательного учреждения, автор А.В.Перышкин Е.М.Гутник М: Дрофа, 2014 г

РАЗДЕЛ 1. Планируемые результаты освоения учебного курса (из общеобразовательной программы)

Физика и методы научного познания

Обучаемый научится

- давать определения понятиям: базовые физические величины, физический закон, научная гипотеза, модель в физике и микромире, элементарная частица, фундаментальное взаимодействие;
- называть базовые физические величины, кратные и дольные единицы, основные виды фундаментальных взаимодействий. Их характеристики, радиус действия;
- делать выводы о границах применимости физических теорий, их преемственности, существовании связей и зависимостей между физическими величинами;
- интерпретировать физическую информацию, полученную из других источников

Обучаемый получит возможность научиться

- - *понимать и объяснять целостность физической теории, различать границы ее применимости и место в ряду других физических теорий*

Кинематика

Обучаемый научится

- давать определения понятиям: механическое движение, материальная точка, тело отсчета, система координат, равномерное прямолинейное движение, равноускоренное и равнозамедленное движение, равнопеременное движение, периодическое (вращательное) движение;
- использовать для описания механического движения кинематические величины: радиус-вектор, перемещение, путь, средняя путевая скорость, мгновенная и относительная скорость, мгновенное и центростремительное ускорение, период, частота;
- называть основные понятия кинематики;
- воспроизводить опыты Галилея для изучения свободного падения тел, описывать эксперименты по измерению ускорения свободного падения;
- делать выводы об особенностях свободного падения тел в вакууме и в воздухе;
- применять полученные знания в решении задач

Обучаемый получит возможность научиться

- - понимать и объяснять целостность физической теории, различать границы ее применимости и место в ряду других физических теорий;
- - владеть приемами построения теоретических доказательств, а также прогнозирования особенностей протекания физических явлений и процессов на основе полученных теоретических выводов и доказательств;
- - характеризовать системную связь между основополагающими научными понятиями: пространство, время, движение;
- - выдвигать гипотезы на основе знания основополагающих физических закономерностей и законов;
- - самостоятельно планировать и проводить физические эксперименты;
- - решать практико-ориентированные качественные и расчетные физические задачи с выбором физической модели (материальная точка, математический маятник), используя несколько физических законов или формул, связывающих известные физические величины, в контексте межпредметных связей;
- - объяснять условия применения физических моделей при решении физических задач, находить адекватную предложенной задаче физическую модель, разрешать проблему как на основе имеющихся знаний, так и при помощи методов оценки.

Динамика

Обучаемый научится

- давать определения понятиям: инерциальная и неинерциальная система отсчёта, инертность, сила тяжести, сила упругости, сила нормальной реакции опоры, сила натяжения. Вес тела, сила трения покоя, сила трения скольжения, сила трения качения;
- формулировать законы Ньютона, принцип суперпозиции сил, закон всемирного тяготения, закон Гука;
- описывать опыт Кавендиша по измерению гравитационной постоянной, опыт по сохранению состояния покоя (опыт, подтверждающий закон инерции), эксперимент по измерению трения скольжения;
- делать выводы о механизме возникновения силы упругости с помощью механической модели кристалла;
- прогнозировать влияние невесомости на поведение космонавтов при длительных космических полетах;
- применять полученные знания для решения задач

Обучаемый получит возможность научиться

- - владеть приемами построения теоретических доказательств, а также прогнозирования особенностей протекания физических явлений и процессов на основе полученных теоретических выводов и доказательств;
- - характеризовать системную связь между основополагающими научными понятиями: пространство, время, движение;

- - выдвигать гипотезы на основе знания основополагающих физических закономерностей и законов;
- - самостоятельно планировать и проводить физические эксперименты;
- - решать практико-ориентированные качественные и расчетные физические задачи, используя несколько физических законов или формул, связывающих известные физические величины, в контексте межпредметных связей;
- - объяснять условия применения физических моделей при решении физических задач, находить адекватную предложенной задаче физическую модель, разрешать проблему как на основе имеющихся знаний, так и при помощи методов оценки.

Законы сохранения в механике

Обучаемый научится

- давать определения понятиям: замкнутая система; реактивное движение; устойчивое, неустойчивое, безразличное равновесия; потенциальные силы, абсолютно упругий и абсолютно неупругий удар; физическим величинам: механическая работа, мощность, энергия, потенциальная, кинетическая и полная механическая энергия;
- формулировать законы сохранения импульса и энергии с учетом границ их применимости;
- делать выводы и умозаключения о преимуществах использования энергетического подхода при решении ряда задач динамики

Обучаемый получит возможность научиться

- - понимать и объяснять целостность физической теории, различать границы ее применимости и место в ряду других физических теорий;
- - владеть приемами построения теоретических доказательств, а также прогнозирования особенностей протекания физических явлений и процессов на основе полученных теоретических выводов и доказательств;
- - характеризовать системную связь между основополагающими научными понятиями: пространство, время, движение, сила, энергия;
- - выдвигать гипотезы на основе знания основополагающих физических закономерностей и законов;
- - самостоятельно планировать и проводить физические эксперименты;
- - характеризовать глобальные проблемы, стоящие перед человечеством: энергетические, сырьевые, экологические, – и роль физики в решении этих проблем;
- - решать практико-ориентированные качественные и расчетные физические задачи с выбором физической модели, используя несколько физических законов или формул, связывающих известные физические величины, в контексте межпредметных связей;
- - объяснять принципы работы и характеристики изученных машин, приборов и технических устройств;

- - объяснять условия применения физических моделей при решении физических задач, находить адекватную предложенной задаче физическую модель, разрешать проблему как на основе имеющихся знаний, так и при помощи методов оценки.

Статика

Обучаемый научится

- давать определения понятиям: равновесие материальной точки, равновесие твердого тела, момент силы;
- формулировать условия равновесия;
- применять полученные знания для объяснения явлений, наблюдаемых в природе и в быту

Обучаемый получит возможность научиться

- - понимать и объяснять целостность физической теории, различать границы ее применимости и место в ряду других физических теорий;
- - владеть приемами построения теоретических доказательств, а также прогнозирования особенностей протекания физических явлений и процессов на основе полученных теоретических выводов и доказательств;
- - выдвигать гипотезы на основе знания основополагающих физических закономерностей и законов;

- самостоятельно планировать и проводить физические эксперименты

Основы гидромеханики

Обучаемый научится

- давать определения понятиям: давление, равновесие жидкости и газа;
- формулировать закон Паскаля, Закон Архимеда;
- воспроизводить условия равновесия жидкости и газа, условия плавания тел;
- применять полученные знания для объяснения явлений, наблюдаемых в природе и в быту

Обучаемый получит возможность научиться

- - понимать и объяснять целостность физической теории, различать границы ее применимости и место в ряду других физических теорий;
- - владеть приемами построения теоретических доказательств, а также прогнозирования особенностей протекания физических явлений и процессов на основе полученных теоретических выводов и доказательств;
- - выдвигать гипотезы на основе знания основополагающих физических закономерностей и законов;

- самостоятельно планировать и проводить физические эксперименты

Молекулярно-кинетическая теория

Обучаемый научится

- давать определения понятиям: микроскопические и макроскопические параметры; стационарное равновесное состояние газа. Температура газа, абсолютный ноль температуры, изопроцесс; изотермический, изобарный и изохорный процессы;
- воспроизводить основное уравнение молекулярно-кинетической теории, закон Дальтона, уравнение Клапейрона-Менделеева, закон Гей-Люссака, закон Шарля.

- формулировать условия идеального газа, описывать явления ионизации;
- использовать статистический подход для описания поведения совокупности большого числа частиц, включающий введение микроскопических и макроскопических параметров;
- описывать демонстрационные эксперименты, позволяющие устанавливать для газа взаимосвязь между его давлением, объемом, массой и температурой;
- объяснять газовые законы на основе молекулярно-кинетической теории.
- применять полученные знания для объяснения явлений, наблюдаемых в природе и в быту

Обучаемый получит возможность научиться

- - понимать и объяснять целостность физической теории, различать границы ее применимости и место в ряду других физических теорий;
- - владеть приемами построения теоретических доказательств, а также прогнозирования особенностей протекания физических явлений и процессов на основе полученных теоретических выводов и доказательств;
- - характеризовать системную связь между основополагающими научными понятиями: пространство, время, движение, сила, энергия;
- - выдвигать гипотезы на основе знания основополагающих физических закономерностей и законов;
- - самостоятельно планировать и проводить физические эксперименты;
- - характеризовать глобальные проблемы, стоящие перед человечеством: энергетические, сырьевые, экологические, – и роль физики в решении этих проблем;
- - решать практико-ориентированные качественные и расчетные физические задачи с выбором физической модели, используя несколько физических законов или формул, связывающих известные физические величины, в контексте межпредметных связей;
- - объяснять принципы работы и характеристики изученных машин, приборов и технических устройств;
- объяснять условия применения физических моделей при решении физических задач, находить адекватную предложенной задаче физическую модель, разрешать проблему как на основе имеющихся знаний, так и при помощи методов оценки

Основы термодинамики

Обучаемый научится

- давать определения понятиям: теплообмен, теплоизолированная система, тепловой двигатель, замкнутый цикл, необратимый процесс, физических величин: внутренняя энергия, количество теплоты, коэффициент полезного действия теплового двигателя, молекула, атом, «реальный газ», насыщенный пар;
- понимать смысл величин: относительная влажность, парциальное давление;
- называть основные положения и основную физическую модель молекулярно-кинетической теории строения вещества;
- классифицировать агрегатные состояния вещества;

- характеризовать изменение структуры агрегатных состояний вещества при фазовых переходах
- формулировать первый и второй законы термодинамики;
- объяснять особенность температуры как параметра состояния системы;
- описывать опыты, иллюстрирующие изменение внутренней энергии при совершении работы;
- делать выводы о том, что явление диффузии является необратимым процессом;
- применять приобретенные знания по теории тепловых двигателей для рационального природопользования и охраны окружающей среды

Обучаемый получит возможность научиться

- - выдвигать гипотезы на основе знания основополагающих физических закономерностей и законов;
- - самостоятельно планировать и проводить физические эксперименты;
- - характеризовать глобальные проблемы, стоящие перед человечеством: энергетические, сырьевые, экологические, – и роль физики в решении этих проблем;
- - решать практико-ориентированные качественные и расчетные физические задачи с выбором физической модели, используя несколько физических законов или формул, связывающих известные физические величины, в контексте межпредметных связей;
- объяснять принципы работы и характеристики изученных машин, приборов и технических устройств

Электростатика

Обучаемый научится

- давать определения понятиям: точечный заряд, электризация тел; электрически изолированная система тел, электрическое поле, линии напряженности электрического поля, свободные и связанные заряды, поляризация диэлектрика; физических величин: электрический заряд, напряженность электрического поля, относительная диэлектрическая проницаемость среды;
- формулировать закон сохранения электрического заряда, закон Кулона, границы их применимости;
- описывать демонстрационные эксперименты по электризации тел и объяснять их результаты; описывать эксперимент по измерению емкости конденсатора;
- применять полученные знания для безопасного использования бытовых приборов и технических устройств

Обучаемый получит возможность научиться

- - понимать и объяснять целостность физической теории, различать границы ее применимости и место в ряду других физических теорий;
- - владеть приемами построения теоретических доказательств, а также прогнозирования особенностей протекания физических явлений и процессов на основе полученных теоретических выводов и доказательств;

- решать практико-ориентированные качественные и расчетные физические задачи с выбором физической модели, используя несколько физических законов или формул, связывающих известные физические величины, в контексте межпредметных связей

Законы постоянного электрического тока

Обучаемый научится

- давать определения понятиям: электрический ток, постоянный электрический ток, источник тока, сторонние силы, сверхпроводимость, дырка, последовательное и параллельное соединение проводников; физическим величинам: сила тока, ЭДС, сопротивление проводника, мощность электрического тока;
- объяснять условия существования электрического тока;
- описывать демонстрационный опыт на последовательное и параллельное соединение проводников, тепловое действие электрического тока, передачу мощности от источника к потребителю; самостоятельно проведенный эксперимент по измерению силы тока и напряжения с помощью амперметра и вольтметра;
- использовать законы Ома для однородного проводника и замкнутой цепи, закон Джоуля-Ленца для расчета электрических

Обучаемый получит возможность научиться

- - понимать и объяснять целостность физической теории, различать границы ее применимости и место в ряду других физических теорий;
- - владеть приемами построения теоретических доказательств, а также прогнозирования особенностей протекания физических явлений и процессов на основе полученных теоретических выводов и доказательств;
- - выдвигать гипотезы на основе знания основополагающих физических закономерностей и законов;
- - самостоятельно планировать и проводить физические эксперименты;
- - решать практико-ориентированные качественные и расчетные физические задачи с выбором физической модели, используя несколько физических законов или формул, связывающих известные физические величины, в контексте межпредметных связей;
- объяснять принципы работы и характеристики изученных машин, приборов и технических устройств

Электрический ток в различных средах

Обучаемый научится

- понимать основные положения электронной теории проводимости металлов, как зависит сопротивление металлического проводника от температуры
- объяснять условия существования электрического тока в металлах, полупроводниках, жидкостях и газах;
- называть основные носители зарядов в металлах, жидкостях, полупроводниках, газах и условия при которых ток возникает;
- формулировать закон Фарадея;

- применять полученные знания для объяснения явлений, наблюдаемых в природе и в быту

Обучаемый получит возможность научиться

- - владеть приемами построения теоретических доказательств, а также прогнозирования особенностей протекания физических явлений и процессов на основе полученных теоретических выводов и доказательств;
- решать практико-ориентированные качественные и расчетные физические задачи с выбором физической модели, используя несколько физических законов или формул, связывающих известные физические величины, в контексте межпредметных связей.

РАЗДЕЛ 2. Содержание учебного предмета Физика и методы научного познания

Физика – фундаментальная наука о природе. Методы научного исследования физических явлений. Моделирование физических явлений и процессов. Физический закон – границы применимости. Физические теории и принцип соответствия. Роль и место физики в формировании современной научной картины мира, в практической деятельности людей. Физика и культура.

Кинематика

Границы применимости классической механики. Важнейшие кинематические характеристики – перемещение, скорость, ускорение. Основные модели тел и движений.

Лабораторные работы

Лабораторная работа №1 «Изучение движения тела по окружности»

Динамика

Взаимодействие тел. Законы Всемирного тяготения, Гука, сухого трения. Инерциальная система отсчета. Законы механики Ньютона.

Лабораторные работы

Лабораторная работа №2 «Измерение жёсткости пружины»

Лабораторная работа №3 «Измерение коэффициента трения скольжения»

Лабораторная работа №4 «Изучение движения тела, брошенного горизонтально»

Законы сохранения в механике

Импульс материальной точки и системы. Изменение и сохранение импульса. Использование законов механики для объяснения движения небесных тел и для развития космических исследований. Механическая энергия системы тел. Закон сохранения механической энергии. Работа силы.

Лабораторные работы

Лабораторная работа №5 «Изучение закона сохранения механической энергии»

Статика

Равновесие материальной точки и твердого тела. Условия равновесия. Момент силы.

Лабораторные работы

Лабораторная работа №6 «Изучение равновесия тела под действием нескольких сил»

Основы гидромеханики

Равновесие жидкости и газа. Движение жидкостей и газов.

Молекулярно-кинетическая теория

Молекулярно-кинетическая теория (МКТ) строения вещества и ее экспериментальные доказательства. Абсолютная температура как мера средней кинетической энергии теплового движения частиц вещества. Модель идеального газа. Давление газа. Уравнение состояния идеального газа. Уравнение Менделеева–Клапейрона. Изопроцессы. Агрегатные состояния вещества.

Лабораторные работы

Лабораторная работа №7. «Опытная поверка закона Гей-Люссака»

Основы термодинамики

Внутренняя энергия. Работа и теплопередача как способы изменения внутренней энергии. Первый закон термодинамики. Необратимость тепловых процессов. Принципы действия тепловых машин.

Электростатика

Электрическое поле. Закон Кулона. Напряженность и потенциал электростатического поля. Проводники, полупроводники и диэлектрики. Конденсатор.

Законы постоянного электрического тока

Постоянный электрический ток. Электродвижущая сила. Закон Ома для полной цепи.

Лабораторные работы

Лабораторная работа №8. «Изучение последовательного и параллельного соединения проводников»

Лабораторная работа №9. «Измерение ЭДС и внутреннего сопротивления источника тока»

Электрический ток в различных средах

Электрический ток в проводниках, электролитах, полупроводниках, газах и вакууме.

. Законы взаимодействия и движения тел .(39 часов)

Материальная точка. Система отсчета. Перемещение. Скорость прямолинейного равномерного движения. Прямолинейное равноускоренное движение: мгновенная скорость, ускорение, перемещение. Графики зависимости кинематических величин от времени при равномерном и равноускоренном движении. Относительность механического движения. Геоцентрическая и гелиоцентрическая системы мира. Инерциальная система отсчета. Первый, второй и третий законы Ньютона. Свободное падение. Невесомость. Закон всемирного тяготения. Импульс. Закон сохранения

импульса. Реактивное движение

Лабораторные работы.

Исследование равноускоренного движения. Определение ускорения свободного падения

Механические колебания и волны. Звук.(15 часов)

Колебательное движение. Колебания груза на пружине. Свободные колебания. Колебательная система. Маятник. Амплитуда, период, частота колебаний. Превращение энергии при колебательном движении. Затухающие колебания. Вынужденные колебания. Резонанс. Распространение колебаний в упругих средах. Поперечные и продольные волны. Длина волны. Связь длины волны со скоростью ее распространения и периодом (частотой). Звуковые волны. Скорость звука. Высота, тембр и громкость звука. Звуковой резонанс.

Лабораторные работы

Исследование зависимости периода и частоты свободных колебаний нитяного маятника от длины нити.

Электромагнитные явления (20 часов)

Магнитное поле тока. Электромагниты и их применение. Постоянные магниты. Магнитное поле Земли. Действие магнитного поля на проводник с током. Электродвигатель. Электромагнитная индукция. опыты Фарадея. Электрогенератор. Электромагнитная индукция. Применение электромагнитной индукции. Переменный ток, трансформатор, производство и передача электроэнергии

Лабораторные работы

Намагничивание и размагничивание компасных стрелок. Исследование явлений электромагнитной индукции

Строение атома и атомного ядра (21 часов)

Радиоактивность как свидетельство сложного строения атомов.

Альфа-, бета-, гамма - излучения. опыты Резерфорда. Ядерная модель атома. Радиоактивные превращения атомных ядер. Сохранение зарядового и массового чисел при ядерных реакциях. Методы наблюдения и регистрации частиц в ядерной физике.

Протонно-нейтронная модель ядра. Физический смысл зарядового и массового чисел. Изотопы. Правила смещения. Энергия связи частиц в ядре.

Деление ядер урана. Цепная реакция. Ядерная энергетика. Экологические проблемы работы атомных электростанций.

Дозиметрия. Период полураспада. Закон радиоактивного распада. Влияние радиоактивных излучений на живые организмы.

Термоядерная реакция. Источники энергии Солнца и звезд.

Обобщение и повторение 7 часов

Раздел 3. Воспитательный потенциал

Раздел 1. Законы взаимодействия и движения тел

Использовать знания о механических явлениях в повседневной жизни для обеспечения безопасности при обращении с приборами и техническими устройствами, для сохранения здоровья и соблюдения норм экологического поведения в окружающей среде.

Самостоятельно планировать и проводить физические эксперименты.

Раздел 2. Механические колебания и волны. Звук

Характеризовать глобальные проблемы, стоящие перед человечеством: энергетические, сырьевые, экологические, – и роль физики в решении этих проблем.

Объяснять принципы работы и характеристики изученных машин, приборов и технических устройств.

Самостоятельно планировать и проводить физические эксперименты.

Раздел 3. Электромагнитное поле

Использовать знания об электромагнитных явлениях в повседневной жизни для обеспечения безопасности при обращении с приборами и техническими устройствами, для сохранения здоровья и соблюдения норм экологического поведения в окружающей среде.

Приводить примеры влияния электромагнитных излучений на живые организмы.

Самостоятельно планировать и проводить физические эксперименты.

Раздел 4. Строение атома и атомного ядра

Использовать полученные знания в повседневной жизни при обращении с приборами и техническими устройствами (счетчик ионизирующих частиц, дозиметр), для сохранения здоровья и соблюдения норм экологического поведения в окружающей среде.

Приводить примеры влияния радиоактивных излучений на живые организмы.

Понимать принцип действия дозиметра и различать условия его использования. Понимать экологические проблемы, возникающие при использовании атомных электростанций, и пути решения этих проблем, перспективы использования управляемого термоядерного синтеза.

Раздел 5. Строение и эволюция Вселенной

Осознавать ценность научных исследований, роль астрономии в расширении представлений об окружающем мире и ее вклад в улучшение качества жизни.

РАЗДЕЛ 4. Тематическое планирование

Название разделов, тем урока		
Количество часов		
Законы движения и взаимодействия (39 часов)		
1	Вводный инструктаж по Т.Б. Материальная точка. Система отсчёта.	1
2	Траектория. Путь. Перемещение.	1
3	Определение координаты движущегося тела.	1
4	Перемещение при прямолинейном равномерном движении.	1
5	Графическое представление прямолинейного равномерного движения.	1
6	Решение задач на прямолинейное равномерное движение.	1
7	Решение задач на прямолинейное равномерное движение.	1
8	Прямолинейное равноускоренное движение. Ускорение.	1
9	Скорость равноускоренного прямолинейного движения. График скорости.	1
10	Решение задач на прямолинейное равноускоренное движение	1
11	Перемещение при прямолинейном равноускоренном движении.	1
12	Перемещение при прямолинейном равноускоренном движении без начальной скорости.	1
13	Графический метод решения задач на равноускоренное движение.	1
14	Графический метод решения задач на равноускоренное движение.	1
15	Лабораторная работа №1 «Исследование равноускоренного движения без начальной скорости».	1
16	Повторение и обобщение материала по теме «Равномерное и равноускоренное движение»	1
17	Контрольная работа №1 «Прямолинейное равноускоренное движение»	1
18	Относительность механического движения.	1
19	Инерциальные системы отсчета. Первый закон Ньютона	1
20	Второй закон Ньютона.	1

21	Третий закон Ньютона.	1
22	Решение задач с применением законов Ньютона.	1
23	Решение задач с применением законов Ньютона.	1
24	Контрольная работа № 2 «Законы Ньютона»	1
25	Решение задач на свободное падение тел. Свободное падение.	1
26	Движение тела, брошенного вертикально вверх. Решение задач.	1
27	Движение тела, брошенного горизонтально.	1
28	Решение задач на движение тела, брошенного горизонтально вверх.	1
29	Лабораторная работа №2 «Исследование свободного падения тел».	1
30	Закон Всемирного тяготения. Решение задач на закон всемирного тяготения.	1
31	Ускорение свободного падения на Земле и других небесных телах.	1
32	Прямолинейное и криволинейное движение.	1
33	Движение тела по окружности с постоянной по модулю скоростью. Искусственные спутники Земли.	1
34	Контрольная работа № 3 «Закон всемирного тяготения»	1
35	Импульс. Закон сохранения импульса.	1
36	Решение задач на закон сохранения импульса.	1
37	Реактивное движение.	1
38	Повторение и обобщение материала по теме «Законы Ньютона. Закон сохранения импульса»	1
39	Контрольная работа №4 « Закон сохранения импульса. Закон сохранения энергии »	1

	Механические колебания и волны (15 часов)	
40	Механические колебания. Колебательные системы: математический маятник, пружинный маятник.	1
41	Величины, характеризующие колебательное движение. Периоды колебаний различных маятников.	1
42	Решение задач по теме «Механические колебания».	1
43	Лабораторная работа № 3 «Исследование зависимости периода и частоты свободных колебаний математического маятника от его длины».	1
44	Решение задач на колебательное движение.	1
45	Механические волны. Виды волн.	1
46	Длина волны.	1
47	Решение задач на определение длины волны.	1
48	Звуковые волны. Звуковые явления.	1
49	Высота и тембр звука. Громкость звука.	1
50	Распространение звука. Скорость звука.	1
51	Отражение звука. Эхо. Решение задач. Звуковой резонанс.	1
52	Решение задач по теме «Механические колебания и волны».	1
53	Повторение и обобщение материала по теме «Механические колебания и волны»	1
54	Контрольная работа № 5 по теме «Механические колебания и волны»	1
	Электромагнитные явления (20 часа)	
55	Магнитное поле. Однородное и неоднородное магнитное поле.	1
56	Графическое изображение магнитного поля.	1
57	Направление тока и направление линий его магнитного поля.	1
58	Обнаружение магнитного поля по его действию на электрический ток. Правило левой руки.	1
59	Магнитный поток	1

60	Явление электромагнитной индукции.	1
61	Самоиндукция	1
62	Лабораторная работа №4 «Изучение явления электромагнитной индукции»	1
63	Получение переменного электрического тока. Трансформатор.	1
64	Электромагнитное поле. Электромагнитные волны	1
65	Конденсатор	1
66	Колебательный контур. Получение электромагнитных колебаний	1
67	Принципы радиосвязи и ТВ	1
68	Электромагнитная природа света.	1
69	Преломление света	1
70	Дисперсия света. Цвета тел.	1
71	Типы спектров электромагнитных волн	1
72	Влияние электромагнитных излучений на живые организмы	1
73	Повторение и обобщение материала по теме «Электромагнитное поле. Электромагнитные колебания и волны»	1
74	Контрольная работа № 6 по теме «Электромагнитное поле.»	1
	Строение атома и атомного ядра. Использование энергии атомных ядер (21часов)	
75	Радиоактивность как свидетельство сложного строения атома.	1
76	Модели атомов. Опыт Резерфорда.	1
77	Радиоактивные превращения атомных ядер.	1
78	Экспериментальные методы исследования частиц.	1

79	Открытие протона и нейтрона	1
80	Состав атомного ядра. Массовое число. Зарядовое число.	1
81-83	Решение задач «Состав атомного ядра. Массовое число. Зарядовое число»	1
84	Изотопы.	1
85	Альфа- и бета- распад. Правило смещения.	1
86	Решение задач «Альфа- и бета- распад. Правило смещения»	1
87	Ядерные силы. Энергия связи. Дефект масс.	1
88	Решение задач «Энергию связи, дефект масс»	1
89	Деление ядер урана. Цепные ядерные реакции.	1
90	Ядерный реактор. Преобразование внутренней энергии ядер в электрическую энергию.	1
91	Лабораторная работа № 5. «Изучение деления ядер урана по фотографиям треков».	1
92	Термоядерная реакция. Атомная энергетика.	1
93	Биологическое действие радиации.	1
94	Повторение и обобщение материала по теме «Строение атома и атомного ядра»	1
95	Контрольная работа № 7 «Строение атома и атомного ядра».	1
	Обобщение и систематизация полученных знаний 7 (часов)	
96	. Строение и эволюция Вселенной	1
97	. Строение и эволюция Вселенной	1
98	Повторение «Механические колебания и волны»	1
99	Повторение «Электромагнитное поле. Электромагнитные колебания и волны»	1
100	Повторение «Электромагнитное поле. Электромагнитные колебания и волны»	1
101	Повторение «Строение атома и атомного ядра»	1

102	Обобщение и систематизация полученных знаний. 1 Итоговый урок.

Критерии оценивания

Оценка «5» ставится в том случае, если учащийся показывает верное понимание физической сущности рассматриваемых явлений и закономерностей, законов и теорий, а так же правильное определение физических величин, их единиц и способов измерения: правильно выполняет чертежи, схемы и графики; строит ответ по собственному плану, сопровождает рассказ собственными примерами, умеет применять знания в новой ситуации при выполнении практических заданий; может установить связь между изучаемым и ранее изученным материалом по курсу физики, а

также с материалом, усвоенным при изучении других предметов.

Оценка «4» ставится, если ответ ученика удовлетворяет основным требованиям на оценку 5, но дан без использования собственного плана, новых примеров, без применения знаний в новой ситуации, без использования связей с ранее изученным материалом и материалом, усвоенным при изучении др. предметов: если учащийся допустил одну ошибку или не более двух недочётов и может их исправить самостоятельно или с небольшой помощью учителя.

Оценка «3» ставится, если учащийся правильно понимает физическую сущность рассматриваемых явлений и закономерностей, но в ответе имеются отдельные пробелы в усвоении вопросов курса физики, не препятствующие дальнейшему усвоению вопросов программного материала: умеет применять полученные знания при решении простых задач с использованием готовых формул, но затрудняется при решении задач, требующих преобразования некоторых формул, допустил не более одной грубой ошибки и двух недочётов, не более одной грубой и одной негрубой ошибки, не более 2-3 негрубых ошибок, одной негрубой ошибки и трёх недочётов; допустил 4-5 недочётов.

Оценка «2» ставится, если учащийся не овладел основными знаниями и умениями в соответствии с требованиями программы и допустил больше ошибок и недочётов чем необходимо для оценки «3».

Оценка «1» ставится в том случае, если ученик не может ответить ни на один из поставленных вопросов.

Оценка контрольных работ

Оценка «5» ставится за работу, выполненную полностью без ошибок, допускается 1 недочёт.

Оценка «4» ставится за работу выполненную полностью, но при наличии в ней не более одной грубой и одной негрубой ошибки и одного недочёта, не более трёх недочётов.

Оценка «3» ставится, если ученик правильно выполнил не менее 1/2 всей работы или допустил не более одной грубой ошибки и двух недочётов, не более одной грубой ошибки и одной негрубой ошибки, не более трех негрубых ошибок, одной негрубой ошибки и трех недочётов, при наличии 4 - 5 недочётов.

Оценка «2» ставится, если число ошибок и недочётов превысило норму для оценки 3 или правильно выполнено менее 1/2 всей работы.

Оценка «1» ставится, если ученик совсем не выполнил ни одного задания.

Оценка лабораторных работ

Оценка «5» ставится, если учащийся выполняет работу в полном объеме с соблюдением необходимой последовательности проведения опытов и измерений; самостоятельно и рационально монтирует необходимое оборудование; все опыты проводит в условиях и режимах, обеспечивающих получение правильных результатов и выводов; соблюдает требования правил безопасности труда; в отчете правильно и аккуратно выполняет все записи,

таблицы, рисунки, чертежи, графики, вычисления; правильно выполняет анализ погрешностей.

Оценка «4» ставится, если выполнены требования к оценке «5», но было допущено два – три недочета, не более одной негрубой ошибки и одного недочёта.

Оценка «3» ставится, если работа выполнена не полностью, но объем выполненной части таков, позволяет получить правильные результаты и выводы: если в ходе проведения опыта и измерений были допущены ошибки.

Оценка «2» ставится, если работа выполнена не полностью и объем выполненной части работы не позволяет сделать правильных выводов: если опыты, измерения, вычисления, наблюдения производились неправильно.

Оценка «1» ставится, если учащийся совсем не выполнил работу.

Во всех случаях оценка снижается, если ученик не соблюдал требования правил безопасности труда.

Оценка тестов

Оценка «5» ставится за 90% и более выполненных заданий.

Оценка «4» ставится за выполнение от 75% до 89% выполненных заданий

Оценка «3» ставится, за выполнение от 50% до 74% выполненных заданий

Оценка «2» ставится, если число ошибок и недочётов превысило норму для оценки 3 или правильно выполнено менее 1/2 всей работы.

Оценка «1» ставится, если ученик совсем не выполнил ни одного задания

Учебно-методическое обеспечение образовательного процесса.

1.Физика. 9 кл.: учебник для общеобразовательных учреждений/ А.В.

Перышкин, Е.М. Гутник - М.: Дрофа, 2009, 2011.

2.Сборник задач по физике для 7-9 классов общеобразовательных учреждений / В.И. Лукашик, Е.В. Иванова. – М.: Просвещение, 2001.

3.Физика. 9 класс: учебно-методическое пособие/ А.Е. Марон, Е.А.

Марон. – М.: Дрофа, 2017.

4.Физика. 9 класс. Поурочные планы по учебнику А.В. Перышкина. / сост. В.А. Шевцов – Волгоград: Учитель, 2017.

5.Генденштейн Л.Э., Кирик Л.А., Гельфгат И.М. Решение ключевых задач по физике для основной школы. 7-9 классы. – М.: ИЛЕКСА, 2011.

6.Контрольные и самостоятельные работы по физике. 9 класс: к учебнику А.В. Перышкина, Е.М. Гутник «Физика 9 класс» / О.И. Громцева. – М.:

Издательство «Экзамен», 2014.

Интернет-ресурсы

7.Анимации физических объектов. <http://physics.nad.ru/>

8. Живая физика: обучающая программа. <http://www.int-edu.ru/soft/fiz.html>

9. Уроки физики с использованием Интернета.

<http://www.phizinter.chat.ru/>

10 Физика.ru. <http://www.fizika.ru/>

11. Физика: коллекция опытов. <http://experiment.edu.ru/>

12 Физика: электронная коллекция опытов.

<http://www.school.edu.ru/projects/physicexp>

<http://fiz.1september.ru/>

Газета "Физика" издательского дома "Первое сентября"

<http://college.ru/physics/index.php>

Открытый колледж: Физика

<http://www.effects.ru/>

Виртуальный фонд естественно-научных и научно-технических эффектов
"Эффектная физика"

http://iso.pippkro.ru/dbfiles/sites/geom_optic/

Геометрическая оптика

<http://teachmen.csu.ru/>

Физикам - преподавателям и студентам <http://physicomp.lipetsk.ru/>

<http://physicomp.lipetsk.ru/>

Физикомп: в помощь начинающему физику

http://college.ru/physics/modules.php?name=main_menu&op=show_page&page=content.html Коллекция «Естественнонаучные эксперименты»: физика

<http://experiment.edu.ru> –

Мир физики: физический эксперимент

<http://demo.home.nov.ru>

Сервер кафедры общей физики физфака МГУ: физический практикум и демонстрации

<http://genphys.phys.msu.ru>

Уроки по молекулярной физике

<http://marklv.narod.ru/mkt>

Физика в анимациях.

<http://physics.nad.ru>

Интернет уроки.

<http://www.interneturok.ru/distancionno>

Физика в открытом колледже

<http://www.physics.ru>

Приложение. Контрольные работы (текущие) Дидактические материалы
А.Е.Марон, Е.А. Марон 9 класс, Москва «Дрофа» 2004г.

Контрольная работа № 1 «Прямолинейное равноускоренное движение»

К-1. Вариант 1.

1. С каким ускорением должен затормозить автомобиль, движущийся со скоростью 36 км/ч, чтобы через 10 с остановиться?

2. За какое время велосипедист проедет 30 м, начиная движение с ускорением $0,75 \text{ м/с}^2$?
3. Какую скорость приобретает троллейбус за 5 с, если он трогается с места с ускорением $1,2 \text{ м/с}^2$?
4. Поезд через 10 с после начала движения приобретает скорость $0,6 \text{ м/с}$. Через какое время от начала движения скорость поезда станет равна 9 м/с ? Какой путь пройдет поезд за это время?
5. Автомобиль, двигаясь равномерно, проходит путь 20 м за 4 с, после чего он начинает тормозить и останавливается через 10 с. Определите ускорение и тормозной путь автомобиля.
6. В момент падения на сетку акробат имел скорость 9 м/с . С каким ускорением происходило торможение, если до полной остановки акробата сетка прогнулась на $1,5 \text{ м}$?
7. На железнодорожной станции во время маневров от равномерно движущегося поезда был отцеплен последний вагон, который стал двигаться равнозамедленно, пока не остановился. Докажите, что пройденный отцепленным вагоном путь в 2 раза меньше пути, пройденного поездом за то же время.
8. Во время гонки преследования один велосипедист стартовал на 20 с позже другого. Через какое время после старта первого велосипедиста расстояние между ними будет 240 м, если они двигались с одинаковым ускорением $0,4 \text{ м/с}^2$?
9. За какую секунду от начала равноускоренного движения путь, пройденный телом, втрое больше пути, пройденного в предыдущую секунду?

К-1. Вариант 2.

1. Поезд подходит к станции со скоростью 36 км/ч и останавливается через минуту после начала торможения. С каким ускорением двигался поезд?
2. Определите, какую скорость развивает мотоциклист за 15 с, двигаясь из состояния покоя с ускорением $1,3 \text{ м/с}^2$.
3. Какой должна быть длина взлетной полосы, если известно, что самолет для взлета должен приобрести скорость 240 км/ч , а время разгона самолета равно примерно 30 с?
4. Спортсмен съехал на лыжах с горы длиной 40 м за 5 с. Определите ускорение движения и скорость спортсмена у подножия горы.
5. Тормоз легкового автомобиля считается исправен, если при скорости движения 8 м/с его тормозной путь равен $7,2 \text{ м}$. Каково время торможения и ускорение автомобиля?
6. Велосипедист и мотоциклист начинают одновременно движение из состояния покоя. Ускорение мотоциклиста в 2 раза больше, чем велосипедиста. Во сколько раз большую скорость разовьет мотоциклист: а) за одно и то же время; б) на одном и том же пути?
7. Автомобиль движется равноускоренно с начальной скоростью 5 м/с и ускорением 2 м/с^2 . За какое время он проедет 150 м пути? Какова будет его скорость?
8. Пассажирский поезд при торможении движется с ускорением $0,15 \text{ м/с}^2$. На каком расстоянии от места включения тормоза скорость поезда станет равной $3,87 \text{ м/с}$, если в момент начала торможения его скорость была 54 км/ч ?
9. При скорости 15 км/ч тормозной путь автомобиля равен $1,5 \text{ м}$. Каким будет тормозной путь автомобиля при скорости 60 км/ч ? Ускорение в обоих случаях одно и то же.

Контрольная работа № 2 «Законы Ньютона»

К-2. Вариант 1.

1. С каким ускорением двигался при разбеге реактивный самолет массой 50 т, если сила тяги двигателей 80 кН?
2. Чему равна сила, сообщающая телу массой 3 кг ускорение $0,4 \text{ м/с}^2$?
3. Лыжник массой 60 кг, имеющий в конце спуска скорость 36 км/ч, остановился через 40 с после окончания спуска. Определите силу сопротивления его движению.
4. Пуля массой 7,9 г вылетает под действием пороховых газов из канала ствола длиной 45 см со скоростью 54 км/ч. Вычислите среднюю силу давления пороховых газов. Трением пули о стенки ствола пренебречь.
5. Определите силу сопротивления движению, если вагонетка массой 1 т под действием силы тяги 700 Н приобрела ускорение $0,2 \text{ м/с}^2$.
6. При трогании с места железнодорожного состава электровоз развивает силу тяги 700 кН. Какое ускорение он при этом сообщит составу массой 3000 т, если сила сопротивления движению 160 кН?
7. Через блок перекинута нить, к концам которой подвешены две гири массами 2 и 6 кг. Найдите силу натяжения нити при движении гирь. Массой блока пренебречь.
8. Груз массой 120 кг при помощи каната равноускоренно опускается вниз и проходит путь 72 м за 12 с. Определите вес груза.
9. Тепловоз массой 100 т тянет два вагона массой по 50 т каждый с ускорением $0,5 \text{ м/с}^2$. Найдите силу тяги тепловоза, если коэффициент трения равен 0,006.

К-2. Вариант 2.

1. Вагонетка массой 200 кг движется с ускорением $0,2 \text{ м/с}^2$. Определите силу, сообщающую вагонетке это ускорение.
2. Чему равно ускорение, с которым движется тело массой 3 кг, если на него действует сила 12 Н?
3. Порожний грузовой автомобиль массой 3 т начал движение с ускорением $0,2 \text{ м/с}^2$. Какова масса этого автомобиля вместе с грузом, если при той же силе тяги он трогается с места с ускорением $0,15 \text{ м/с}^2$?
4. Порожнему прицепу тягач сообщает ускорение $0,4 \text{ м/с}^2$, а груженому — $0,1 \text{ м/с}^2$. Какое ускорение сообщит тягач обоим прицепами, соединенным вместе? Силу тяги считать во всех случаях одинаковой.
5. Автомобиль массой 2 т, движущийся со скоростью 90 км/ч, останавливается через 3 с после нажатия водителем педали тормоза. Чему равен тормозной путь автомобиля? Каково его ускорение? Чему равна сила торможения?
6. Трос выдерживает максимальную нагрузку 2,4 кН. С каким наибольшим ускорением с помощью этого троса можно поднимать груз массой 200 кг?
7. Лифт телебашни разгоняется до скорости 7 м/с в течение 15 с. Столько же времени занимает и остановка лифта. Найдите изменение веса человека массой 80 кг в начале и в конце движения лифта.
8. Два тела массами 1 и 3 кг соединены нитью, перекинутой через невесомый блок. Определите ускорение при движении тел. Трением в блоке и его массой пренебречь.
9. Автомобиль массой 1,5 т через 20 с после начала движения развил скорость 90 км/ч. Определите силу тяги автомобиля, если коэффициент трения равен 0,02.

Контрольная работа № 3 «Закон всемирного тяготения»

К-3. Вариант 1.

1. Масса Юпитера $1,9 \cdot 10^{27}$ кг, его средний радиус $7,13 \cdot 10^7$ м. Чему равно ускорение свободного падения для планеты Юпитер?

2. Определите скорость движения спутника вокруг Земли по круговой орбите на высоте, равной радиусу Земли, если первая космическая скорость у поверхности Земли равна 8 км/с.
3. Железнодорожный вагон движется по закруглению радиусом 50 м. Чему равна скорость вагона, если он движется с центростремительным ускорением 2 м/с²?
4. Масса Луны примерно в 100 раз меньше массы Земли, а ее диаметр в 4 раза меньше диаметра Земли. Сравните силы тяжести, действующие на тела одинаковой массы на Земле и на Луне.
5. Масса и радиус планеты соответственно в 2 раза больше, чем у Земли. Чему равна первая космическая скорость для этой планеты?
6. Мяч брошен вертикально вверх со скоростью 10 м/с. На какую максимальную высоту он поднимется?
7. Какой путь пройдет свободно падающее тело на Марсе за 10 с падения, если масса планеты Марс равна $0,64 \cdot 10^{24}$ кг, а его радиус 3400 км?
8. Два тела, находящиеся соответственно на высоте 20 и 10 м над поверхностью земли, начинают одновременно падать и достигают земли одновременно. Определите, какова должна быть начальная скорость тела, падающего с большей высоты, если начальная скорость другого тела равна нулю.
9. Камень брошен вертикально вверх с высоты 28 м с начальной скоростью 8 м/с. Определите скорость камня в момент его падения на землю.
10. **Контрольная работа № 4 «Закон сохранения импульса. Закон сохранения энергии»**

К-4. Вариант 1.

1. Двигаясь со скоростью 4 м/с, молоток массой 0,5 кг ударяет по гвоздю. Определите среднюю силу удара, если его продолжительность 0,1 с.
2. Поезд массой 2000 т, двигаясь прямолинейно, уменьшил скорость от 54 до 36 км/ч. Чему равно изменение импульса поезда?
3. Кинетическая энергия тела в момент бросания равна 200 Дж. Определите, на какую максимальную высоту над поверхностью земли может подняться тело, если его масса равна 500 г.
4. Человек массой 70 кг, бегущий со скоростью 5 м/с, догоняет тележку массой 50 кг, движущуюся со скоростью 1 м/с, и вскакивает на нее. С какой скоростью они будут продолжать движение?
5. Два тела массами 200 и 500 г, движущиеся навстречу друг другу, после столкновения остановились. Чему равна начальная скорость второго тела, если первое двигалось со скоростью 2 м/с?
6. Мяч брошен вертикально вверх со скоростью 16 м/с. На какой высоте его кинетическая энергия будет равна потенциальной?
7. Охотник стреляет из ружья с неподвижной резиновой лодки. Чему равна скорость лодки сразу после выстрела? Масса охотника и лодки 100 кг, масса дроби 35 г, дробь вылетает из ствола со скоростью 320 м/с. Ствол ружья во время выстрела направлен под углом 60° к горизонту.
8. Стоящий на коньках человек массой 60 кг ловит мяч массой 500 г, летящий горизонтально со скоростью 72 км/ч. Определите расстояние, на которое откатится при этом человек, если коэффициент трения равен 0,05.
9. Тело брошено со скоростью 15 м/с под углом к горизонту. Определите его скорость на высоте 10 м. Сопротивлением воздуха пренебречь.

Контрольная работа № 5 «Механические колебания и волны»

К-5. Вариант 1.

1. Груз, подвешенный на пружине, за 1 мин совершил 300 колебаний. Чему равна частота и период колебаний груза?
2. Частота колебаний камертона 440 Гц. Какова длина звуковой волны от камертона в воздухе, если скорость распространения звука при $0\text{ }^{\circ}\text{C}$ в воздухе равна 330 м/с?
3. По графику гармонических колебаний (рис. 125) определите амплитуду, период и частоту колебаний.
4. Сколько колебаний совершил математический маятник за 30 с, если частота его колебаний равна 2 Гц? Чему равен период его колебаний?
5. Определите ускорение свободного падения на поверхности Марса при условии, что там математический маятник длиной 50 см совершил бы 40 колебаний за 80 с.
6. Чему равна скорость распространения морской волны, если человек, стоящий на берегу, определил, что расстояние между двумя соседними гребнями волн равно 8 м и за минуту мимо него проходит 45 волновых гребней?
7. Сколько времени идет звук от одной железнодорожной станции до другой по стальным рельсам, если расстояние между ними 5 км, а скорость распространения звука в стали равна 500 м/с?
8. Каково соотношение частот колебаний двух маятников, если их длины относятся как 1:4?
9. Как изменится период колебаний математического маятника, если его перенести с Земли на Луну ($g_3 = 9,8\text{ м/с}^2$; $g_л = 1,6$

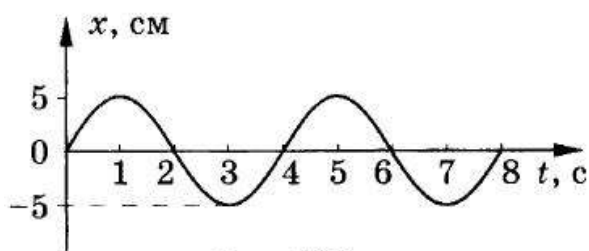


Рис. 125

м/с²)?

Контрольная работа № 6 «Электромагнитное поле»

К-6. Вариант 1.

1. По графику (рис. 129) определите период, частоту и амплитуду колебаний силы тока.

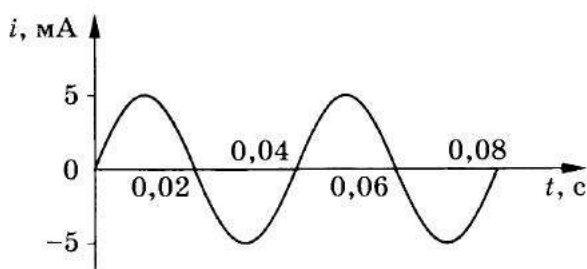


Рис. 129

2. На какой частоте работает радиостанция, передавая программу на волне длиной 250 м?
3. Определите силу тока, проходящего по прямолинейному проводнику, находящемуся в однородном магнитном поле с индукцией 10 Тл, если на активную часть проводника длиной 40 см действует сила 20 Н. Проводник расположен перпендикулярно линиям магнитной индукции.

4. Протон движется со скоростью 10^6 м/с перпендикулярно однородному магнитному полю с индукцией 1 Тл. Определите силу, действующую на протон.
5. Электрон описывает в однородном магнитном поле окружность радиусом 4 мм. Скорость движения электрона равна $3,5 \cdot 10^6$ м/с. Определите индукцию магнитного поля.
6. Какова сила тока в прямолинейном проводнике, помещенном в однородное магнитное поле перпендикулярно линиям индукции, если он не падает? 1 м его длины имеет массу 3 кг, а индукция магнитного поля равна 20 Тл.

К-6. Вариант 2.

1. По графику (рис. 130) определите период, частоту и амплитуду колебаний силы тока.

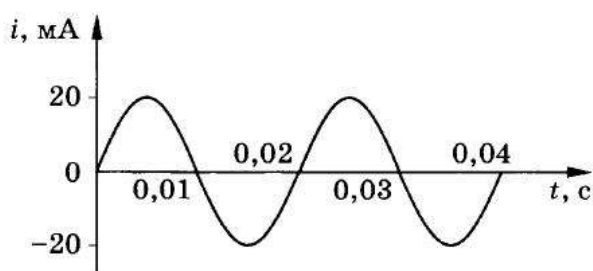


Рис. 130

2. Чему равна длина волн, посылаемых радиостанцией, работающей на частоте 1400 кГц?
3. На прямолинейный проводник с током, помещенный в однородное магнитное поле с индукцией 0,34 Тл, действует сила 1,65 Н. Определите длину проводника, если он расположен перпендикулярно линиям индукции магнитного поля. Сила тока в проводнике 14,5 А.
4. Электрон влетает в однородное магнитное поле с индукцией 0,5 Тл со скоростью 20 000 км/с перпендикулярно линиям магнитной индукции. Определите силу, с которой магнитное поле действует на электрон.
5. Электрон, двигаясь со скоростью $3,54 \cdot 10^5$ м/с, попадает в однородное магнитное поле с индукцией $2 \cdot 10^{-5}$ Тл перпендикулярно линиям магнитной индукции и продолжает двигаться по окружности радиусом 10 см. Определите отношение заряда электрона к его массе.
6. Сила тока в горизонтально расположенном проводнике длиной 10 см и массой 2 г равна 10 А. Какова индукция магнитного поля, в которое нужно поместить проводник, чтобы сила тяжести уравновесилась силой, действующей на проводник со стороны магнитного поля?





Контрольная работа №7 «Строение атома и атомного ядра»

ВАРИАНТ № 1

1. β -излучение — это
 - 1) вторичное радиоактивное излучение при начале цепной реакции
 - 2) поток нейтронов, образующихся в цепной реакции
 - 3) электромагнитные волны
 - 4) поток электронов

2. При изучении строения атома в рамках модели Резерфорда моделью ядра служит
 - 1) электрически нейтральный шар
 - 2) положительно заряженный шар с вкраплениями электронов
 - 3) отрицательно заряженное тело малых по сравнению с атомом размеров
 - 4) положительно заряженное тело малых по сравнению с атомом размеров

3. В ядре элемента ${}_{92}^{238}\text{U}$ содержится
 - 1) 92 протона, 238 нейтронов
 - 2) 146 протонов, 92 нейтрона
 - 3) 92 протона, 146 нейтронов
 - 4) 238 протонов, 92 нейтрона

4. На рисунке изображены схемы четырёх атомов. Чёрными точками обозначены электроны. Атому ${}_{5}^{13}\text{B}$ соответствует схема
 - 1) 
 - 2) 
 - 3) 
 - 4) 

5. Эл
чи
1)
2)

6. Ук
 ${}_{4}^{9}\text{Be}$
1)
2)

7. Ус
и у
ве
вы
НА
А)
Б)
В)

8. Оп
(тэ
ра
ри
св

9. За
ма